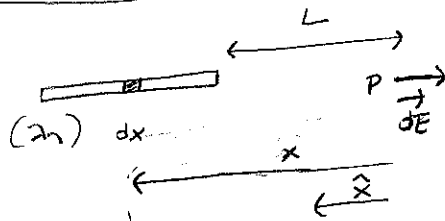
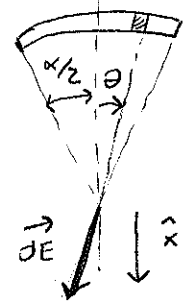
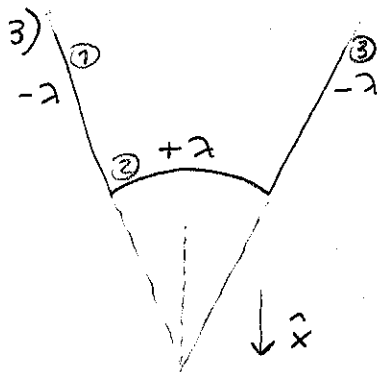


Ejercicio 1

1) 
$$\vec{E} = \frac{1}{4\pi\epsilon_0} \int_L^{2L} \frac{\lambda_1 dx}{x^2} (-\hat{x}) = \frac{1}{4\pi\epsilon_0} \frac{\lambda_1}{2L} (-\hat{x})$$

2) 
$$\vec{E} = \frac{1}{4\pi\epsilon_0} \int_{-\alpha/2}^{\alpha/2} \frac{(\lambda_2 L d\theta)}{L^2} \cos\theta \hat{x} = \frac{1}{4\pi\epsilon_0} \frac{2\lambda_2 \sin\alpha/2}{L} \hat{x}$$

3) 
$$\vec{E} = \vec{E}_1 + \vec{E}_2 + \vec{E}_3 ;$$

$$\vec{E}_1 + \vec{E}_3 = 2E_1 \cos\frac{\alpha}{2} \hat{x}, \quad E_1 = \frac{1}{4\pi\epsilon_0} \frac{(-\lambda)}{2L}$$

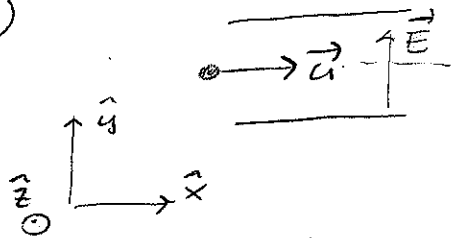
$$\vec{E}_2 = \frac{1}{4\pi\epsilon_0} \frac{2\lambda \sin\alpha/2}{L} \hat{x}$$

$$\Rightarrow \vec{E} = \frac{1}{4\pi\epsilon_0} \frac{2\lambda}{L} \left[-\frac{1}{2} \cos\frac{\alpha}{2} + \sin\frac{\alpha}{2} \right] \hat{x} = 0 : \quad \text{tg} \frac{\alpha}{2} = \frac{1}{2} \Rightarrow$$

$$\Rightarrow \alpha = 2 \text{Arctg} \left(\frac{1}{2} \right) \sim 53^\circ$$

Ejercicio 2

1)



A partir de la conservación de la energía, la velocidad u con que la partícula entra a la región entre placas verifica:

$$\frac{1}{2} m u^2 = qV \quad ; \quad u = \sqrt{\frac{2qV}{m}}$$

La fuerza que experimenta la partícula es:

$$\vec{F} = q(\vec{E} + \vec{u} \times \vec{B}) \quad ; \quad \vec{E} = E\hat{y} \quad , \quad \vec{B} = B_y\hat{y} + B_z\hat{z} \quad , \quad \vec{u} = u\hat{x}$$

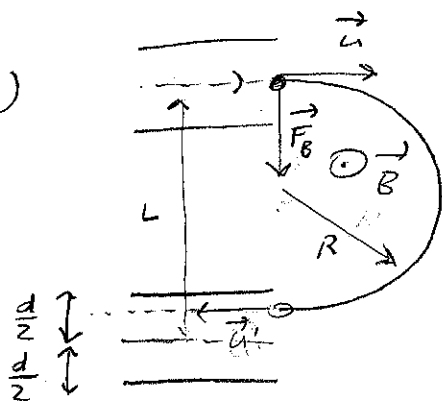
Para que se mueva con velocidad constante:

$$\vec{F} = 0 \quad ; \quad \vec{E} + \vec{u} \times \vec{B} = 0$$

$$E\hat{y} + \sqrt{\frac{2qV}{m}} (B_y\hat{z} - B_z\hat{y}) = 0 \quad ;$$

$$\boxed{\begin{aligned} B_y &= 0 \\ B_z &= \sqrt{\frac{m}{2qV}} E \end{aligned}}$$

2)



En la región sin campo eléctrico la partícula tiene un movimiento circular uniforme de radio R :

$$m a_c = F_B \quad ; \quad m \frac{u^2}{R} = q u B \quad ; \quad \boxed{R = \frac{m u}{q B}}$$

Para que la partícula entre a la región entre el segundo par de placas el radio R

debe verificar:

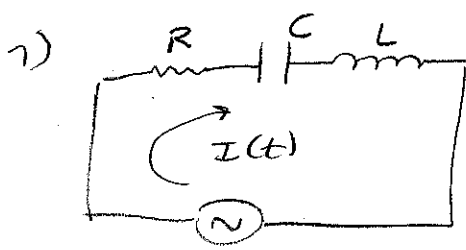
$$L - \frac{d}{2} < 2R < L + \frac{d}{2} \quad \Leftrightarrow \quad \boxed{2R - \frac{d}{2} < L < 2R + \frac{d}{2}}$$

3) Nuevamente $\vec{F} = 0 \quad ; \quad \vec{E}' + \vec{u}' \times \vec{B} = 0$

como $\vec{u}' = -\vec{u}$

$$\boxed{\vec{E}' = -\vec{E}}$$

Ejercicio 3

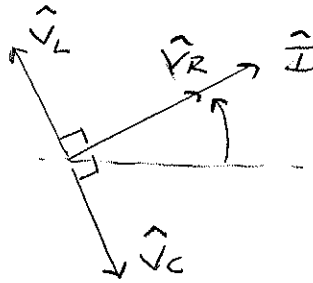


$$\hat{V}_R = R \hat{I} \quad (I(t) = \text{Re} \{ \hat{I} \})$$

$$\hat{V}_L = j\omega L \hat{I} = e^{j\pi/2} \omega L \hat{I}$$

$$\hat{V}_C = \frac{1}{j\omega C} \hat{I} = e^{-j\pi/2} \frac{1}{\omega C} \hat{I}$$

Representación fasorial:



2)

$$Z_{eq} = R + j\omega L + \frac{1}{j\omega C} \Rightarrow \hat{I} = \frac{V_0 e^{j\omega t}}{Z_{eq}}$$

$$Z_{eq} = \frac{e^{j\phi}}{\sqrt{R^2 + (\omega L - \frac{1}{\omega C})^2}} \quad \text{con } \tan \phi = \frac{\omega L - \frac{1}{\omega C}}{R}$$

$$\Rightarrow I(t) = \frac{V_0 I_0}{\sqrt{R^2 + (\omega L - \frac{1}{\omega C})^2}} \cos(\omega t - \phi)$$

$$v_R(t) = \text{Re} \{ R \hat{I} \} = R I(t)$$

$$v_L(t) = \text{Re} \{ e^{j\pi/2} \omega L \hat{I} \} = \omega L I_0 \cos(\omega t - \phi + \frac{\pi}{2})$$

$$v_C(t) = \text{Re} \{ e^{-j\pi/2} \frac{1}{\omega C} \hat{I} \} = \frac{I_0}{\omega C} \cos(\omega t - \phi - \frac{\pi}{2})$$

3)

$$P(t) = R I^2(t) : \langle P \rangle = \frac{1}{2} R I_0^2$$

$$\langle P \rangle = \frac{1}{2} R \frac{V_0^2}{R^2 + (\omega L - \frac{1}{\omega C})^2}$$

el valor máximo se obtiene para $\omega L = \frac{1}{\omega C}$
de acuerdo a los datos numéricos:

$$\omega L < \frac{1}{\omega C} \quad (\text{circuito capacitivo})$$

Para maximizar $\langle P \rangle$ se puede colocar un capacitor en paralelo con C: $C_{eq} = C + C_1$,

de manera que $\omega L = \frac{1}{\omega C_{eq}} : C_{eq} = C + C_1 = \frac{1}{\omega^2 L} : C_1 = \frac{1}{\omega^2 L} - C, \omega = 2\pi f$

$$\Rightarrow \boxed{C_1 = 275 \mu\text{F}} ; \text{ luego } \langle P \rangle_{\text{máx}} = \frac{1}{2} \frac{V_0^2}{R} = \boxed{25 \text{ mW}}$$