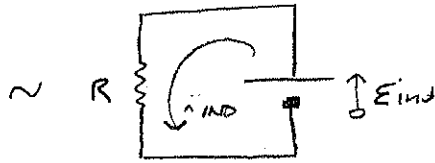
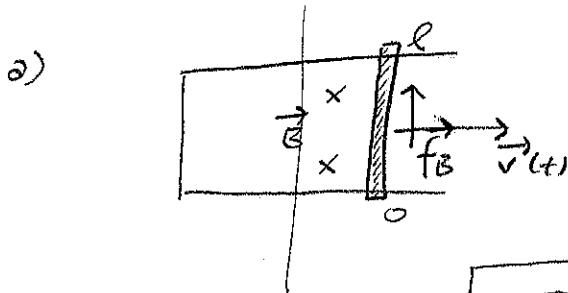


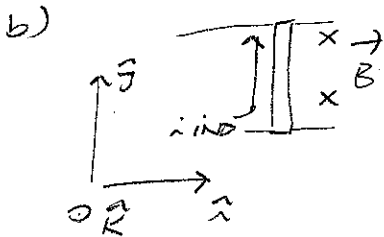
Ejercicio 7

$$\mathcal{E}_{\text{ind}} = \oint_C \vec{f}_B \cdot d\vec{\ell} \quad (\vec{f}_B: \text{ fuerza por unidad de carga})$$

$$\Rightarrow \mathcal{E}_{\text{ind}} = \int_0^l (\vec{v} \times \vec{B}) \cdot d\vec{\ell} = \boxed{Blv(t)}$$



$$i_{\text{IND}} = \frac{\mathcal{E}_{\text{ind}}}{R} = \boxed{\frac{Blv(t)}{R}} \quad \left(\begin{array}{l} \text{con sentido} \\ \text{antihorario} \end{array} \right)$$



$$\vec{F}_B = i_{\text{IND}} \vec{\ell} \times \vec{B} = i_{\text{IND}} l \vec{j} \times (-B\vec{k})$$

$$\vec{F}_B = -Bl i_{\text{IND}} \vec{i} = \boxed{-\frac{(Bl)^2}{R} v(t) \vec{i}}$$

c) 2^{da} ley de Newton a la barra:

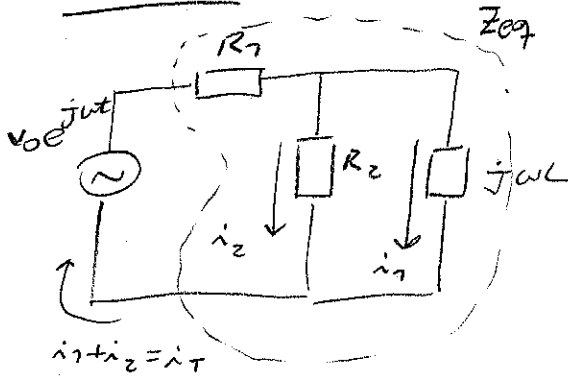
$$m \dot{v} \vec{i} = \vec{F}_B : m \dot{v} = -\frac{(Bl)^2}{R} v \quad \text{con } v(0) = v_0$$

$$\Rightarrow v(t) = v_0 \exp\left(-\frac{(Bl)^2}{mR} t\right)$$

distancia recorrida:

$$d = \int_0^{\infty} v(t) dt = \int_0^{\infty} v_0 \exp\left(-\frac{(Bl)^2}{mR} t\right) dt = \boxed{\frac{mRv_0}{(Bl)^2}}$$

Ejercicio 2



a) La impedancia compleja equivalente es:

$$Z_{eq} = R + (R^{-1} + (j\omega L)^{-1})^{-1}$$

b) $v_0 e^{j\omega t} = Z_{eq} \hat{i}_T$

$$Z_{eq} = |Z_{eq}| e^{j\phi} \Rightarrow \hat{i}_T = \frac{v_0}{|Z_{eq}|} e^{j(\omega t - \phi)}$$

El factor de potencia del circuito se vincula con el desfase ϕ de la corriente total con respecto al voltaje:

$$F.P. = \cos\phi \quad ; \quad \text{en términos de } Z_{eq} : \cos\phi = \frac{\operatorname{Re}\{Z_{eq}\}}{|Z_{eq}|}$$

$$Z_{eq} = R + \frac{j\omega L R}{R + j\omega L} = \frac{R^2 + j2\omega L R}{R + j\omega L} = \frac{(R^2 + j2\omega L R)(R - j\omega L)}{R^2 + (\omega L)^2}$$

$$Z_{eq} = \frac{R(R^2 + 2(\omega L)^2) + j\omega L R^2}{R^2 + (\omega L)^2} ; \quad \cos\phi = \frac{R}{\sqrt{R^2 + \left(\frac{\omega L R^2}{R^2 + 2(\omega L)^2}\right)^2}}$$

c) R_2 y L en paralelo: $R R_2 i_2 = j\omega L i_1$

malta que contiene a R_2 y R_2 : $v_0 = R(i_1 + i_2) + R i_2$

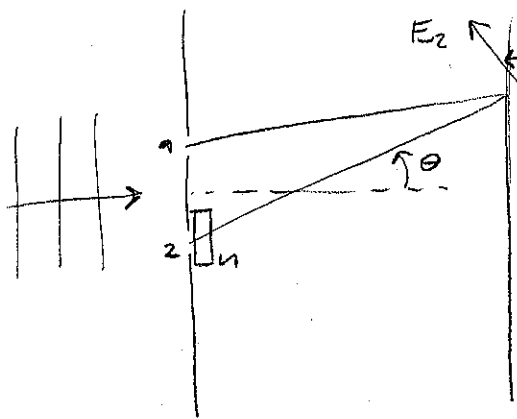
$$\rightarrow v_0 = R \left(\frac{R}{j\omega L} + 1 \right) i_2 + R i_2 : \quad \hat{i}_2 = \frac{v_0}{R(2 + R/j\omega L)}$$

$$\hat{i}_2 = \frac{v_0}{R} \frac{2 + jR/\omega L}{4 + (R/\omega L)^2} = |\hat{i}_2| e^{j\phi_2} \quad , \quad |\hat{i}_2| = \frac{v_0}{R(4 + (R/\omega L)^2)^{1/2}}$$

$$\tan\phi_2 = R/2\omega L$$

luego: $\hat{i}_2(t) = |\hat{i}_2| \cos(\omega t + \phi_2)$

Ejercicio 3



a) La diferencia de camino óptico entre las ondas que emergen de 1 y 2, una vez pasada la película, es:

$$\Delta = ne - e = (n-1)e \quad (\text{suponiendo } \theta \ll 1)$$

La diferencia de fase introducida por Δ es:

$$\phi = k\Delta = \frac{2\pi}{\lambda}(n-1)e \quad ; \text{ para que corresponda a } \pi :$$

$$\pi = \phi = \frac{2\pi}{\lambda}(n-1)e \quad ; \quad e = \frac{\lambda}{2(n-1)}$$

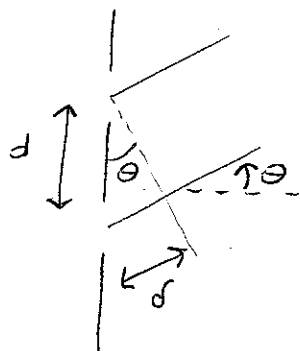
(alternativamente, podemos ver que el retraso temporal entre las ondas es:

$$\Delta t = \frac{e}{v} - \frac{e}{c} = \frac{e}{c/n} - \frac{e}{c} = \frac{e}{c}(n-1) \quad \text{luego } \phi = \omega \Delta t = \frac{2\pi}{\lambda}(n-1)e)$$

b) Para el punto medio de la pantalla: $\Delta = (n-1)e$ (no hay diferencia de camino geom.)

$$\Rightarrow \phi = \pi \quad (\text{tengo interferencia destructiva}) \Rightarrow I_{\theta=0} = 0$$

c) Para un punto de la pantalla bajo ángulo θ :



$$\Delta = (n-1)e + d \quad , \quad d = \theta \cos \theta$$

$$\Rightarrow \phi = k\Delta = \pi + k\theta \cos \theta$$

para tener un máximo de interferencia: $\phi = m 2\pi$

(m entera)

$$\Rightarrow \sin \theta_m = \frac{\lambda}{d} \left(m - \frac{1}{2} \right)$$