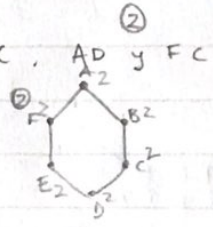
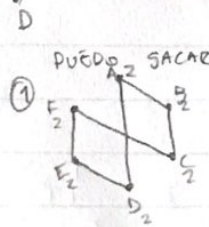
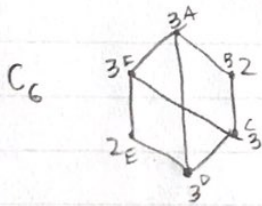
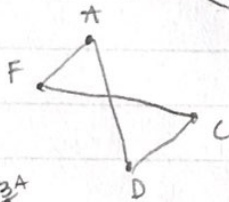
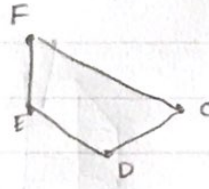
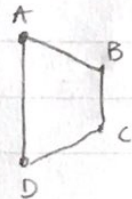
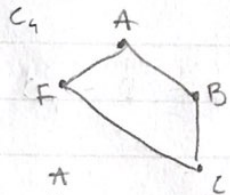
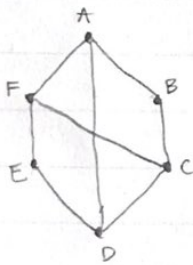


CUESTIONARIO PRUEBA
DISCRETA

EJ 2 ¿CUANTOS SUBGRAFOS HOMEOMORFICOS A C_5 TIENE EL GRAFO?

HAY QUE BUSCAR CICLOS



PUEDO SACAR AF y DC, AD y FC

PARA C_6 NECESITAMOS UN CICLO HAMILTONIANO (QUE PASA POR TODO LOS VERTICES)

TODOS LOS VERTICES DEBEN TENER GRADO 2 (PARA ENTRAR Y SALIR DEL VERTICE)

A LOS QUE TIENEN GRADO 3 LE PODEMOS SACAR UNA ARISTA