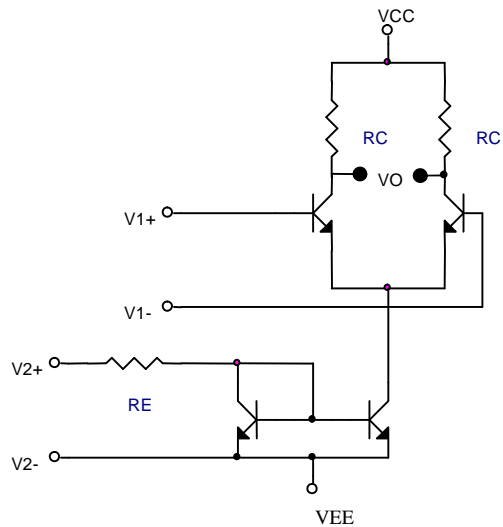


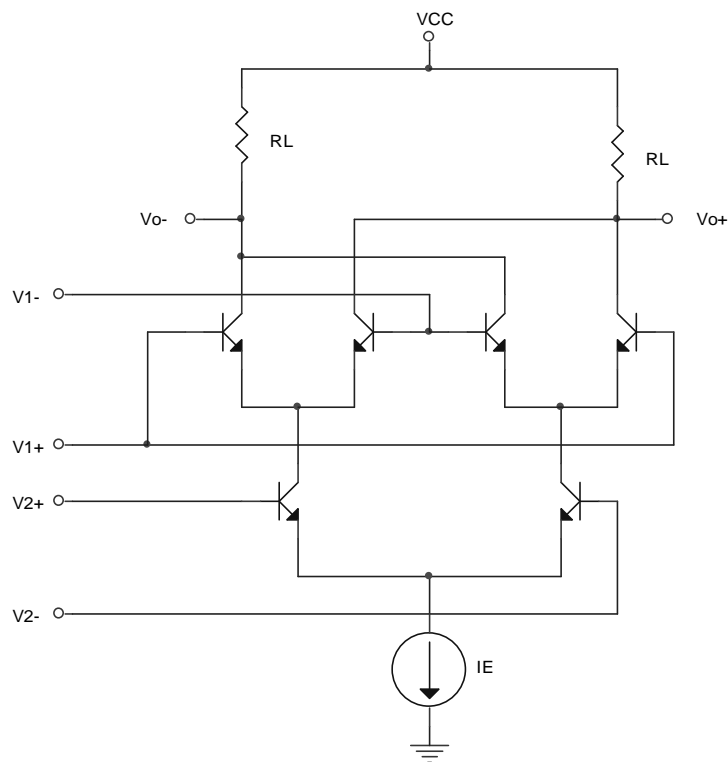
ELECTRONICA 2 Hoja 1

MULTIPLICADORES:

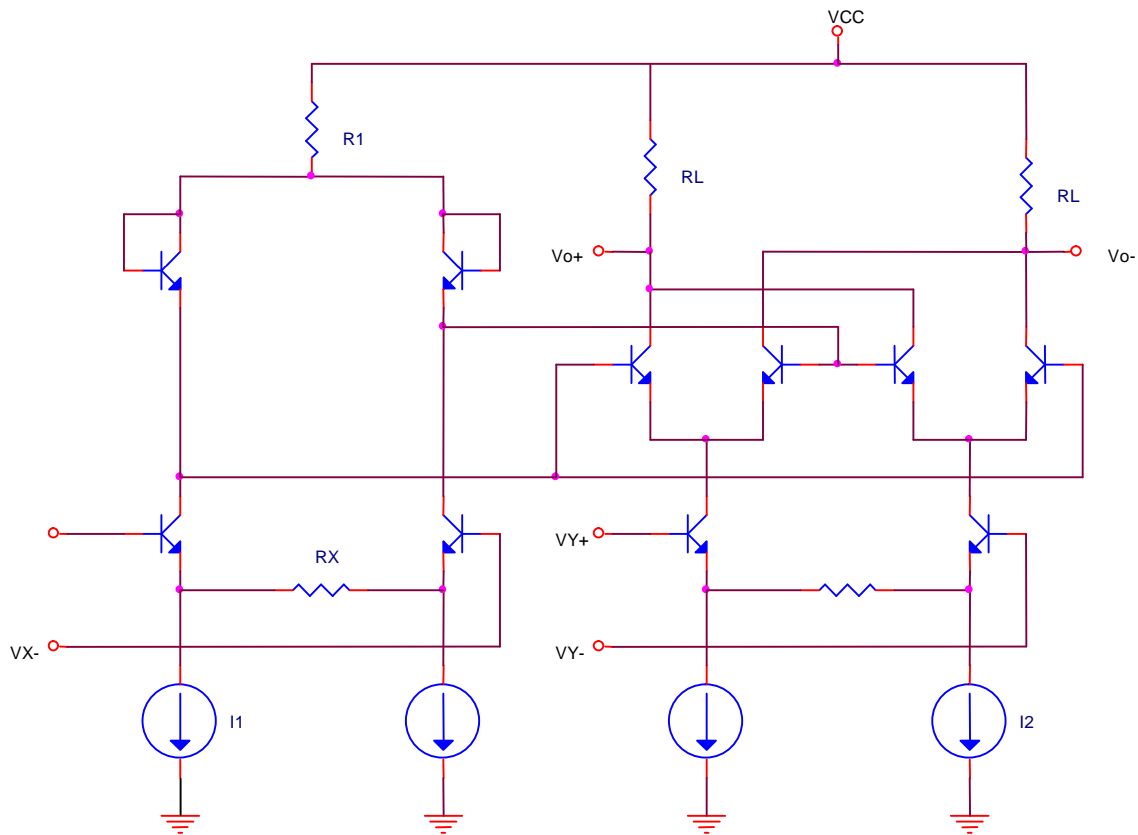
1. a) Para el circuito de la figura, calcular V_o en función de las entradas diferenciales V_1 y V_2 .
 b) En esta parte se pretende estudiar la linealidad del circuito. Es claro que es lineal respecto de la señal V_2 , pero no lo es respecto de V_1 . Para realizar este estudio se inyecta una señal sinusoidal en V_1 mientras que V_2 se mantiene constante. ¿Cuál es la máxima amplitud de la señal de entrada para que la amplitud del tercer armónico sea menor o igual que 1% de la fundamental? **Nota:** Para hacer esto, calcular el desarrollo de Taylor de la transferencia hallada en a) y tomar en cuenta el primer término no lineal. Verificar el resultado analítico con el resultado de simulaciones realizadas con SPICE.



2. El circuito de la figura es un multiplicador de Gilbert. a) Hallar la transferencia en continua del circuito. b) Dimensionar R_C e I_E para que $V_o = 2000V_1V_2$. c) Para los valores calculados en b), hallar la condición que debe cumplir el modo común de las entradas para que todos los transistores trabajen en zona activa. Asumir que la fuente de corriente está construida con un transistor idéntico a los demás, la fuente de alimentación es $V_{CC} = 15V$ y $V_{CEsat} = 0.3V$.



3. Examen de Electrónica II de agosto de 1996. Los transistores de la figura son idénticos. Calcular V_o en función de R_x , R_y , I_1 , I_2 , V_x y V_y .



4. Se quiere diseñar un modulador de AM utilizando el circuito MC1496B. Se requiere que $V_o = A(1+mX(t))\cos(\omega t)$. Dimensionar los componentes externos para que $A = 10$ y que el índice de modulación $m = 0.5$.

5. Primer parcial E2 10/2000

En el circuito de la figura:

- Determinar la función que relaciona a V_o con V_c y V_m , siendo V_m de amplitud tal que el transistor T3 opera en zona activa y V_c de cualquier amplitud.
- ¿Cuál puede considerarse como la amplitud de pico máxima en V_c para la cual el circuito opera como un multiplicador?
- ¿Cómo se puede aumentar el valor de V_c determinado en la parte anterior (rango para el cual el circuito funciona como multiplicador)? Indicar cuál es el nuevo rango para el circuito propuesto.
 - Todos los transistores son idénticos.
 - $\beta \gg 1$
 - Tensión base-emisor en zona activa V_{BE} .

