

Práctico 2 - Transformaciones de Möbius

Sean a, b, c, d números complejos tales que $ad - bc \neq 0$. Definimos una transformación de Möbius como una función de $\overline{\mathbb{C}}$ en $\overline{\mathbb{C}}$ dada por

$$\varphi(z) = \begin{cases} \frac{az+b}{cz+d} & \text{si } z \in \mathbb{C} \setminus \{-d/c\}, \\ \frac{a}{c} & \text{si } z = \infty \\ \infty & \text{si } z = \frac{-d}{c}. \end{cases}$$

$$\begin{aligned} ad - bc &= ad - ab \\ &= a(d-b) \neq 0 \\ &\Rightarrow a \neq 0 \text{ y } d \neq b \end{aligned}$$

2. a) Hallar la transformación de Möbius tal que: $f(0) = -1$, $f(i) = 0$ y $f(\infty) = 1$

b) Determine la imagen de los siguiente conjuntos para esta transformación:

- El eje imaginario.
- El semiplano derecho.
- El semiplano izquierdo.
- El eje real.
- El semiplano superior.
- La recta $\{z : \text{Im}(z) = 1\}$

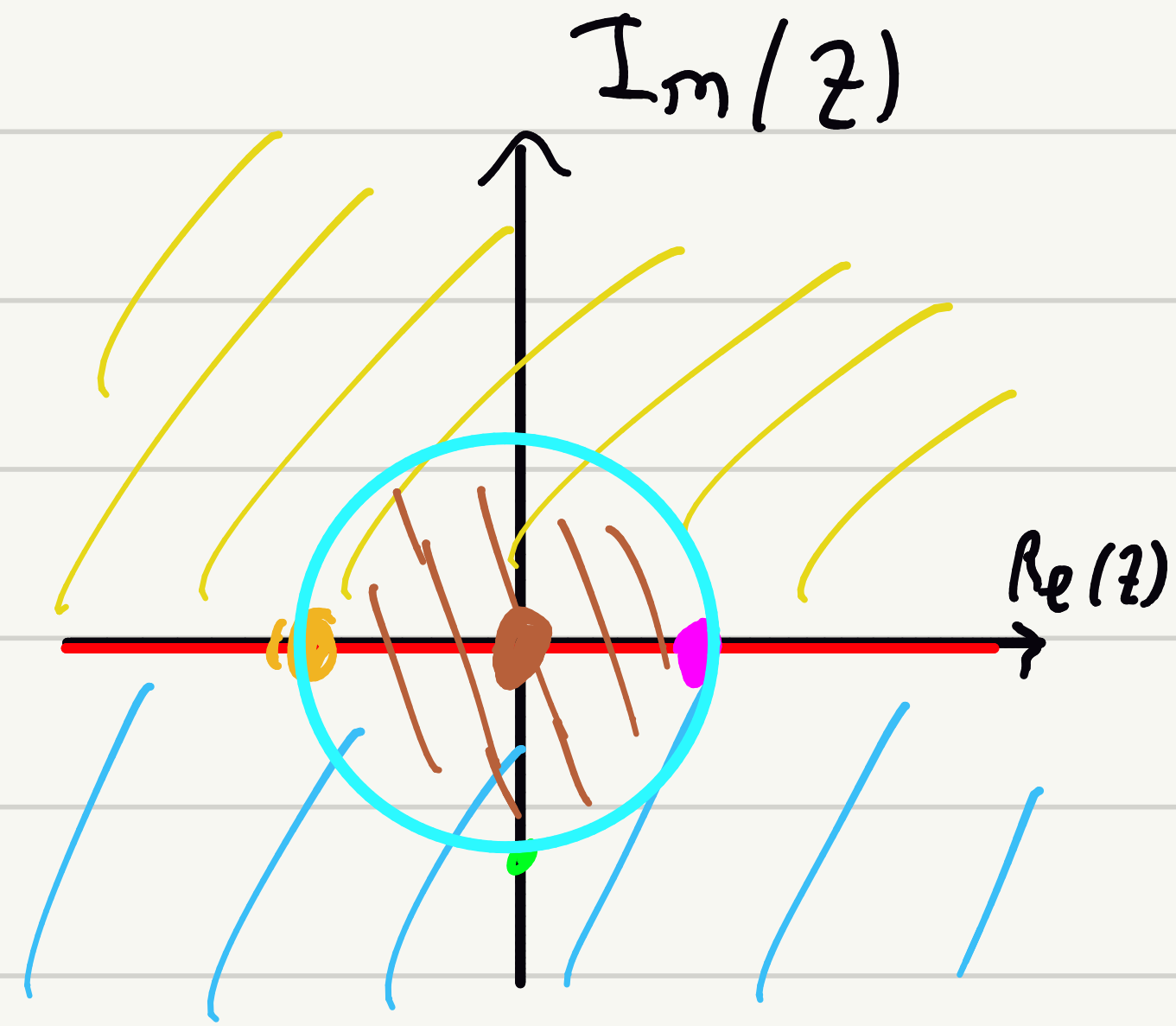
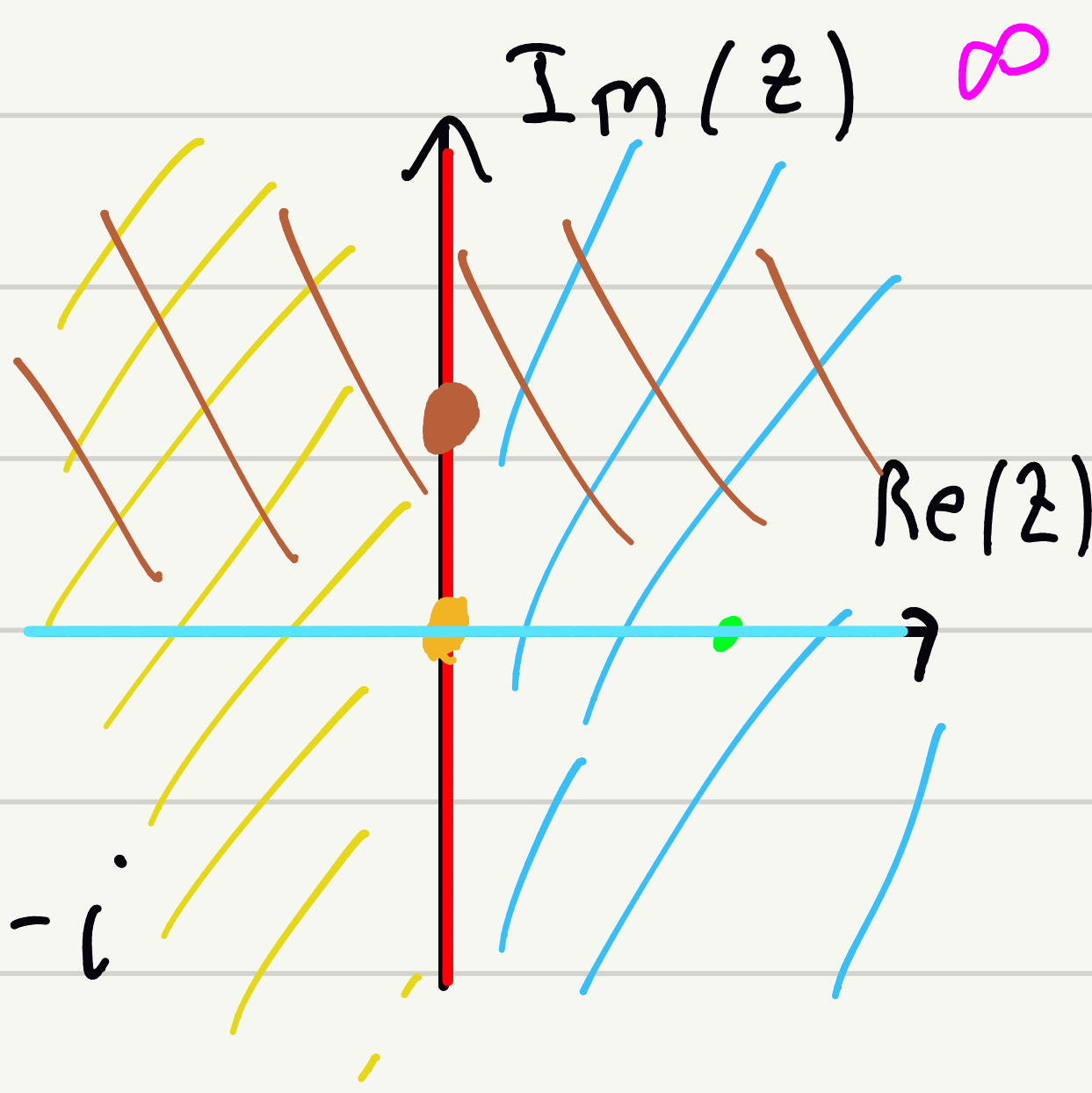
$\rightarrow a = c$
Elijo $a = 1$

$$f(z) = \frac{z+b}{z+d} \quad ; \quad f(0) = \frac{b}{d} = -1 \Rightarrow d = -b$$

$$\Rightarrow f(z) = \frac{z+b}{z-b} \quad ; \quad f(i) = 0 \Rightarrow b = -i$$

$$\Rightarrow f(z) = \frac{z-i}{z+i}$$

$$f(1) = \frac{1-i}{1+i} = e^{-i\pi/2} = -i$$



5. Sea T una transformación de Möbius diferente de la identidad. Probar que:

a) $T(0) = 0, T(\infty) = \infty \Leftrightarrow \exists a \in \mathbb{C}, T(z) = az$

(\Rightarrow)

$$T(0) = \frac{b}{d} = 0 \Rightarrow b = 0$$

$$ad - bc = 0$$

$$T(\infty) = a/c = \infty \Rightarrow c = 0$$

$$a = \rho e^{i\theta}$$

$$T(z) = \frac{az}{d} = \left(\frac{a}{d}\right)z$$

(\Leftarrow) Trivial

$$T(z) = \frac{az+b}{cz+d}$$

$$ad - bc \neq 0$$

$$\frac{1}{\frac{1}{c}} \frac{az+b}{\frac{1}{c}} = \frac{\frac{a}{c}z + \frac{b}{c}}{z + \frac{d}{c}}$$

b) $T(\infty) = \infty$ y es el único punto fijo $\Leftrightarrow T$ es una traslación.

$$T(\infty) = a/c = \infty \Rightarrow c = 0$$

$$ad - bc = ad \neq 0$$

$$\Rightarrow a \neq 0 \neq d$$

$$\Rightarrow d = 1$$

$$T(z) = \frac{az + b}{d}$$

$$T(z) = az + b = z \Leftrightarrow (a-1)z = -b \Rightarrow a = 1$$

Como $T \neq id \Rightarrow b \neq 0 \Rightarrow T(z) = z + b$

DEFINICIÓN 7. Dos puntos son inversos con respecto a un círculo dado si:

- i) Los puntos están en una misma semirrecta que pasa por el centro de la circunferencia.
- ii) El producto de sus distancias al centro es igual al cuadrado del radio del círculo.

EJERCICIO 6. 1. Probar que z_1 y z_2 son puntos inversos con respecto al círculo $|z - a| = R$ si, y solo si,

$$(z_1 - a)\overline{(z_2 - a)} = R^2$$

En particular $a = \infty$
son inversos

Observar que cuando $z_1 \rightarrow a$ entonces $z_2 \rightarrow \infty$.

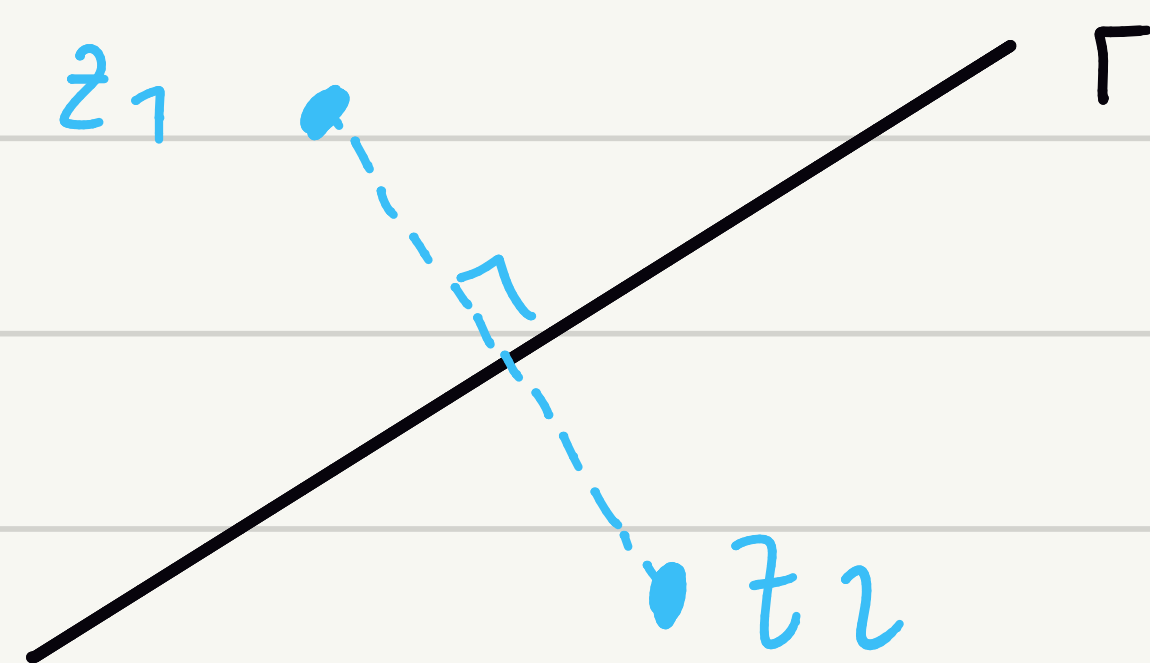
2. Como ya vimos la ecuación general del círculo se puede escribir en la forma

$$(7) \quad (A + \bar{A})z\bar{z} + \bar{B}z + B\bar{z} + C + \bar{C} = 0.$$

Si z_1 y z_2 están relacionadas por la ecuación:

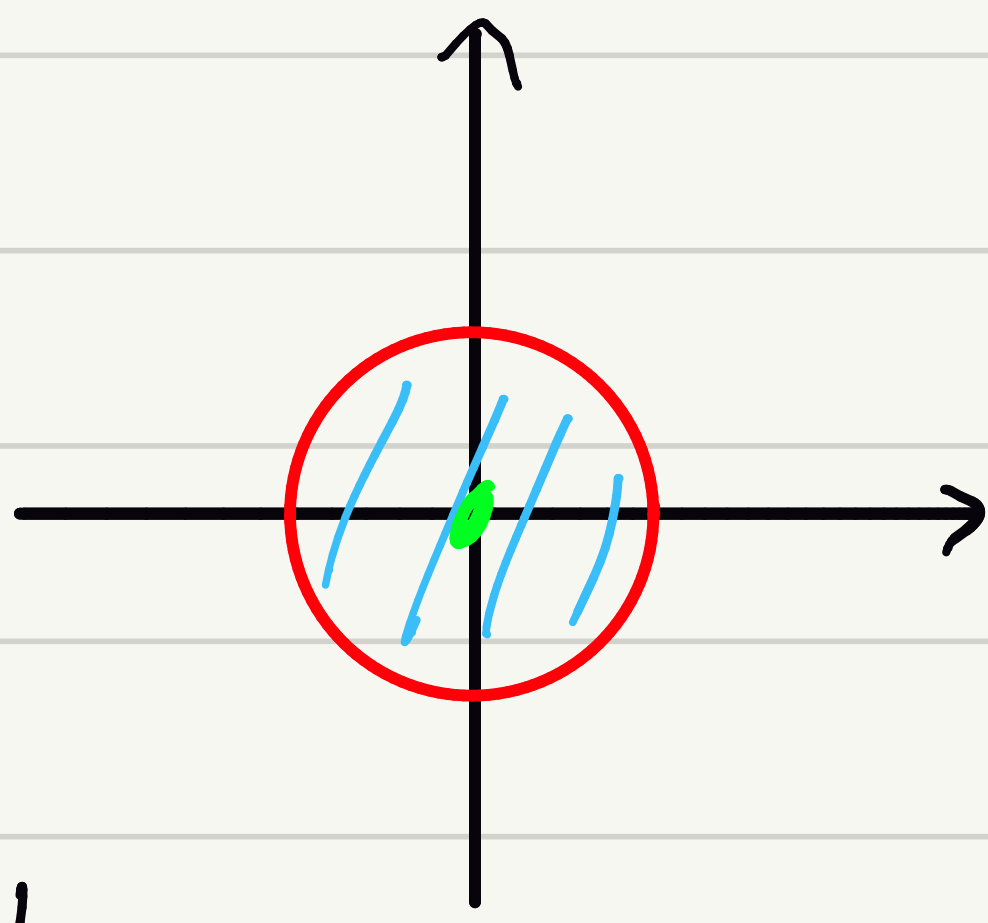
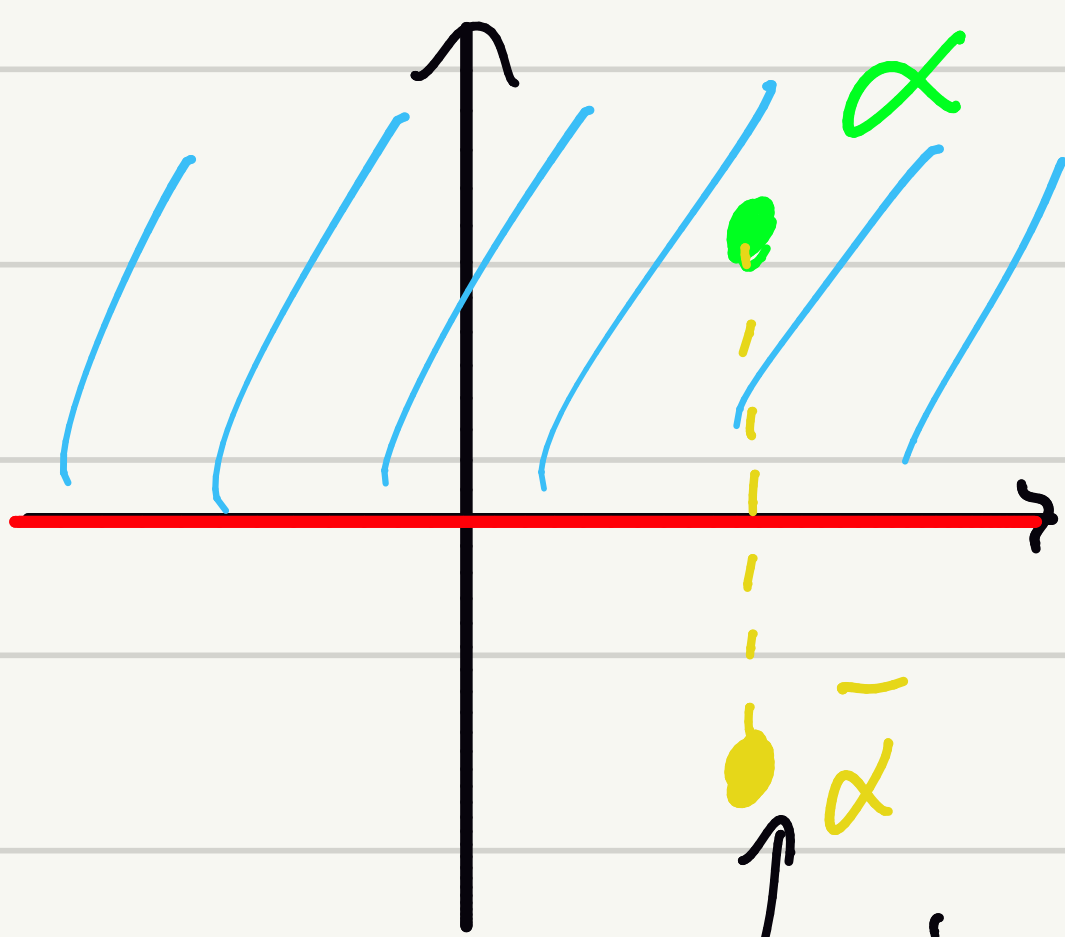
$$(A + \bar{A})z_1\bar{z}_2 + \bar{B}z_1 + B\bar{z}_2 + C + \bar{C} = 0$$

Probar que para $A \neq 0$, z_1 y z_2 son puntos inversos del círculo (7). Si $A = 0$, la expresión $\bar{B}z_1 + B\bar{z}_2 + C + \bar{C} = 0$, determina que $\text{dist}(z_1, r) = \text{dist}(z_2, r)$, siendo $r = \bar{B}z + B\bar{z} + C + \bar{C} = 0$.



3. Dado cualquier círculo (recta) y un par de puntos z_1 y z_2 que son puntos inversos, probar que la transformación bilineal $\varphi = (az + b)/(cz + d)$ transforma los puntos inversos z_1 y z_2 en puntos inversos del círculo (recta) imagen.

a) Probar que las transformaciones de Möbius que llevan el semiplano superior en el disco unidad son de la forma $T(z) = e^{i\beta} \frac{z - \alpha}{z - \bar{\alpha}}$ con $\beta \in \mathbb{R}$ y $\text{Im}(\alpha) > 0$.



$$T(\alpha) = 0, \text{Im}(\alpha) > 0$$

↳ inverso de α resp. del eje real

$T(\alpha) = 0$ y $T(\bar{\alpha})$ tienen que ser inversos respecto de $T(\mathbb{R}) = S^1 = \partial B(0,1)$

$$\Rightarrow T(\bar{\alpha}) = \infty$$

$$T(\infty) = \frac{a}{c} \in S^1 \Rightarrow c \neq 0 \rightarrow \text{Elijo } c = 1 \Rightarrow \left| \frac{a}{c} \right| = 1$$

$$= |a| = 1 \Rightarrow a = e^{i\beta}$$

$$T(z) = \frac{e^{i\beta} z + b}{z + d} = e^{i\beta} \frac{z + b'}{z + d} = e^{i\beta} \frac{z - \alpha}{z + d}$$

↑
 $T(\alpha) = 0$

$$= e^{i\beta} \frac{z - \alpha}{z - \bar{\alpha}}$$

↑
 $T(\bar{\alpha}) = \infty$

4. Sea $T : \bar{\mathbb{C}} \rightarrow \bar{\mathbb{C}}$ una transformación de Möbius tal que

$$T(z) = \frac{2z - i}{-iz - 2}$$

- Sea $D = \{z \in \mathbb{C} : |z| < 1\}$. Probar que $T(D) = D$.
- Sea \mathcal{F} la familia de todas las rectas por el origen. Probar que existe un único elemento r_0 de \mathcal{F} tal que $T(r_0)$ es una recta.
- Hallar explícitamente la recta $T(r_0)$.

$$T(z) = \infty \Leftrightarrow -iz - 2 = 0 \Leftrightarrow iz = -2 \Leftrightarrow$$

$$z = 2i \in \Gamma_0 \Leftrightarrow \Gamma_0 = \{ib : b \in \mathbb{R}\}$$

