

Cálculo Diferencial e Integral en Varias Variables

Segundo semestre de 2022

Segundo parcial

26 de noviembre de 2022

Nº Lista	Apellido, Nombre	Cédula	Firma

IMPORTANTE

- La duración del parcial es de tres horas y media.
- No se permite usar ni calculadora ni material de consulta.
- El parcial tiene cinco ejercicios de múltiple opción y dos ejercicios de desarrollo.
- En cada ejercicio de múltiple opción solo hay una opción correcta.
- La comprensión de la letra de los ejercicios es parte de la prueba.
- **Tenga cuidado al pasar las respuestas. Para los ejercicios de múltiple opción lo completado en el cuadro de abajo será lo único tenido en cuenta a la hora de corregir.**
- **En el desarrollo, todos los razonamientos y/o resultados a los que llegue deben ser justificados. Resultados correctos sin justificación tendrán 0 puntos.**

MÚLTIPLE OPCIÓN (Total: 40 puntos)

Llenar cada casilla con las respuestas **A, B, C, D** o **E**, según corresponda.

1	2	3	4	5

Correctas: 8 puntos. Incorrectas: -2 puntos. Sin responder: 0 puntos.

DESARROLLO (Total: 20 puntos)

Dos ejercicios de desarrollo se encuentran en la página 3.

SOLO PARA USO DOCENTE

MO	D.1.a)	D.1.b)	D.1.c)	D.2	Total

MÚLTIPLE OPCIÓN

1. Sea $f : \mathbb{R}^2 \rightarrow \mathbb{R}$ definida como $f(x, y) = \sin(y^2)$, y D el dominio triangular con vértices $(0, 0)$, $(-1, \sqrt{\pi})$ y $(1, \sqrt{\pi})$. Entonces la integral de f en D vale:

- (A) 0 (B) $\frac{\pi}{2}$ (C) $\frac{2}{\sqrt{\pi}}$
(D) $\frac{-2}{\pi}$ (E) $\sqrt{\pi}$
-

2. Sea $f : \mathbb{R}^2 \rightarrow \mathbb{R}^3$ una función tal que $f(2, 1) = (0, -1, \pi/4)$ y

$$J_f(2, 1) = \begin{pmatrix} 1 & 1 \\ 0 & -1 \\ -1 & 3 \end{pmatrix}$$

y sea $g : \mathbb{R}^3 \rightarrow \mathbb{R}$ definida como $g(u, v, w) = e^{uv} - \cos(2w)$. Si $h : \mathbb{R}^2 \rightarrow \mathbb{R}$ está definida como $h(x, y) = g(f(x, y))$, indicar cuánto vale $\frac{\partial h}{\partial y}(2, 1)$:

- (A) $\frac{\partial h}{\partial y}(2, 1) = 3$ (B) $\frac{\partial h}{\partial y}(2, 1) = 0$ (C) $\frac{\partial h}{\partial y}(2, 1) = -1$
(D) $\frac{\partial h}{\partial y}(2, 1) = 5$ (E) $\frac{\partial h}{\partial y}(2, 1) = -4$
-

3. El polinomio de Taylor de orden 2 de $f(x, y) = \log(x^2 + y)$ en el punto $(1, 0)$ es:

- (A) $p_2(x, y) = 1 + 2x - y + \frac{x^2}{2} - \frac{y^2}{2} + 3xy$
(B) $p_2(x, y) = -3 + 4x + 3y - x^2 - \frac{y^2}{2} - 2xy$
(C) $p_2(x, y) = 2x + y - \frac{x^2}{2} + y^2 - 2xy$
(D) $p_2(x, y) = 1 - 2x + y + x^2 + \frac{y^2}{2} + 2xy$
(E) $p_2(x, y) = 2(x - 1) + y + (x - 1)^2 + y^2 + (x - 1)y$
-

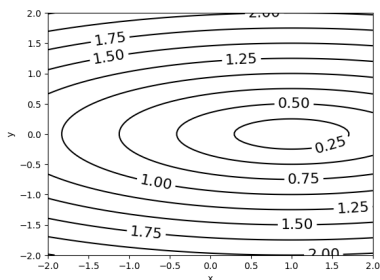
4. Hallar el valor del parámetro $\alpha \in \mathbb{R}$ para el cual $f : \mathbb{R}^2 \rightarrow \mathbb{R}$ definida como:

$$f(x, y) = \begin{cases} \frac{x^4}{y(x^2 + y^2)} & \text{si } y \neq 0 \\ \alpha & \text{si } y = 0 \end{cases}$$

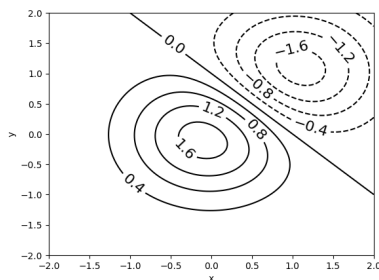
es continua en $(0, 0)$.

- (A) $\alpha = 1$ (B) $\alpha = 0$
 (C) f es discontinua en $(0, 0)$ para todo $\alpha \in \mathbb{R}$ (D) $\alpha = -1$
 (E) $\alpha = 2$

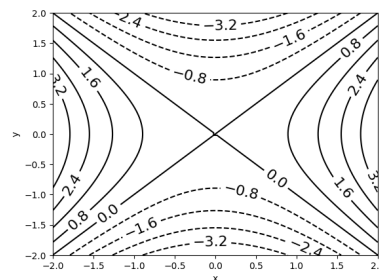
5. Sea $f : \mathbb{R}^2 \rightarrow \mathbb{R}$ la función dada por $f(x, y) = \max\{x^2 + y^2, 2x\}$. Entonces, la figura que más se asemeja a las curvas de nivel de f es:



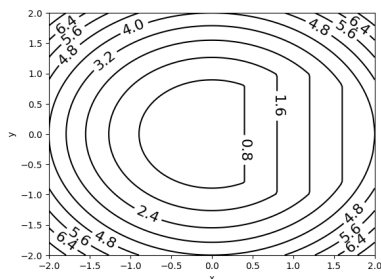
(A)



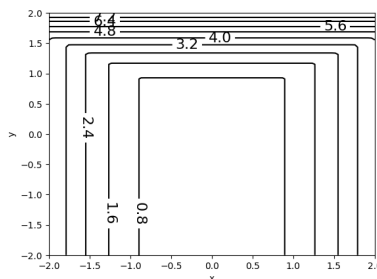
(B)



(C)



(D)



(E)

DESARROLLO

1. Sea $f : \mathbb{R}^2 \rightarrow \mathbb{R}$ una función.
- Definir diferenciabilidad de f en un punto $a = (x_0, y_0) \in \mathbb{R}^2$. (Decimos que f es diferenciable en $a = (x_0, y_0) \in \mathbb{R}^2$ sii ...)
 - Demostrar que si f es diferenciable en un punto a , y v es un vector en \mathbb{R}^2 , entonces existe la derivada direccional de f respecto a v en el punto a . Calcular dicha derivada en términos de los elementos que aparecen en la definición del ítem anterior.
 - Si se sabe que f es diferenciable y que $\frac{\partial f}{\partial v_1}(2, 3) = 6$, y $\frac{\partial f}{\partial v_2}(2, 3) = -3$, donde $v_1 = (2, 1)$ y $v_2 = (1, -1)$, calcular $\nabla f(2, 3)$.

2. Calcular la integral de la función $f(x, y, z) = ze^{x^2+y^2}$ en el dominio:

$$D = \{(x, y, z) \in \mathbb{R}^3 : \sqrt{x^2 + y^2} \leq z \leq 2\}.$$