



**Examen de Electrónica 2**  
**21/02/2005**

Resolver cada problema en hojas separadas.  
Duración de la prueba: 3 horas 30 minutos.  
La prueba es sin material.  
Los puntajes de los problemas se indican sobre un total de 100 puntos.


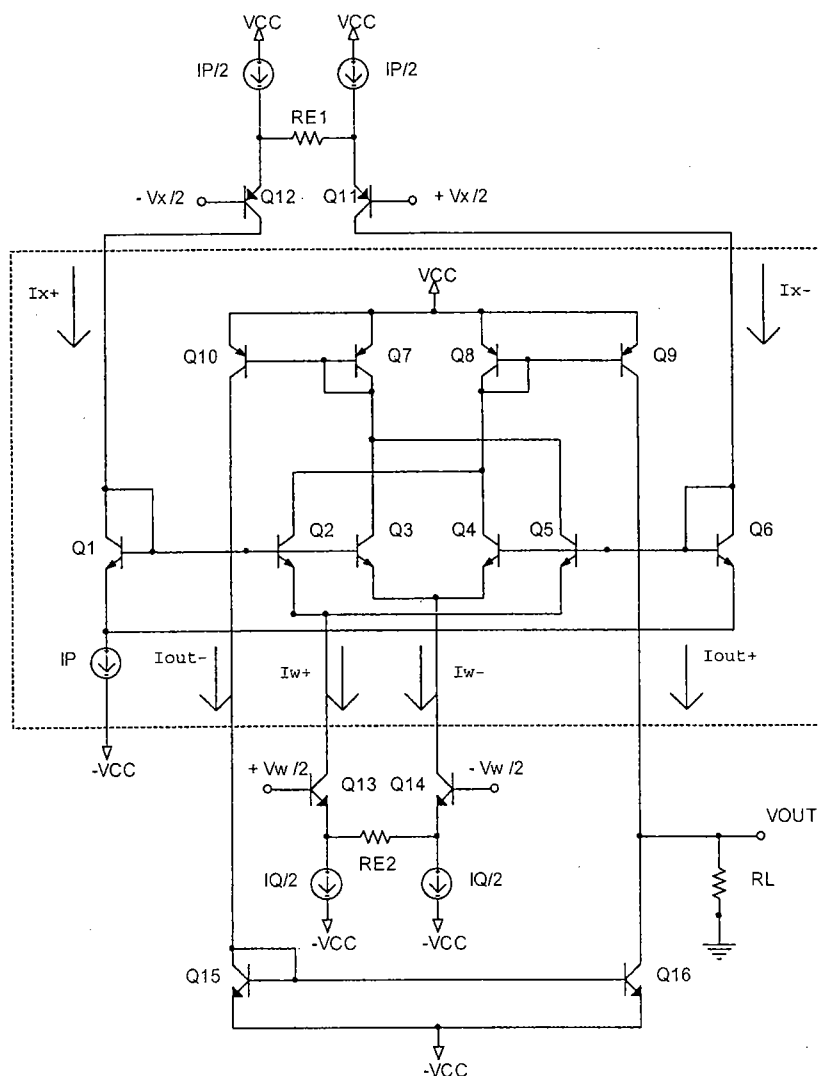
**Problema 1 (37 pts):**

a) Para el circuito de la figura calcule  $V_{out}$  en función de  $V_x$  y  $V_w$ .  
Sugerencia: Suponiendo que todos los transistores trabajan en zona activa, primero determine la transferencia del bloque rodeado por la línea punteada, es decir la corriente  $\Delta I_{out} = I_{out}^+ - I_{out}^-$  en función de las corrientes  $\Delta I_x = I_x^+ - I_x^-$ ,  $\Delta I_w = I_w^+ - I_w^-$  y la corriente de polarización  $I_p$ .

b) ¿Cuál es la función de los transistores Q1 y Q6?

Nota: Todos los transistores se supondrán idénticos con  $\beta \gg 1$ . Las corrientes de polarización  $I_p$  e  $I_q$  se supondrán tales que  $I_p R_{E1} \gg 4V_T$  e  $I_q R_{E2} \gg 4V_T$

Recuerde que:  $Ln\left(\frac{1+x}{1-x}\right) = 2 \tanh^{-1}(x)$  y que  $\tanh(x) = \frac{e^x - e^{-x}}{e^x + e^{-x}}$



QAA 2/10

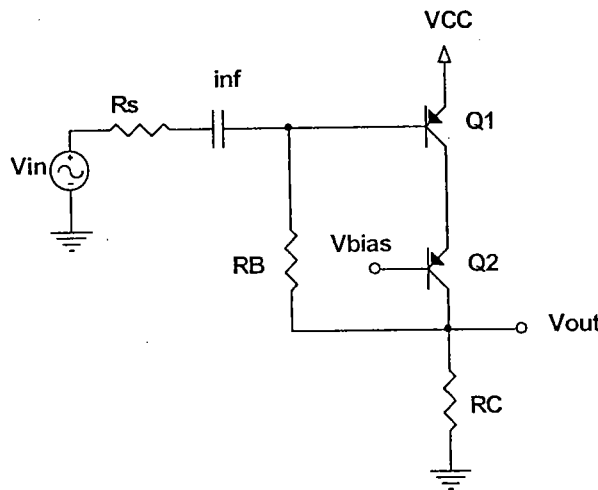
**Problema 2 (37 ptos):**

El circuito de la figura es un amplificador del cual se quiere conocer su ancho de banda. Suponga que  $V_{bias}$  es tal que los dos transistores operan en zona activa.

- Determinar que condición debe cumplir  $R_B$  para que la polarización no dependa de  $\beta$
- Si para las siguientes partes consideramos  $R_B=R_C$ , calcule la ganancia del circuito a frecuencias medias.
- Determine la frecuencia de corte superior. Dar una expresión literal y su valor numérico.

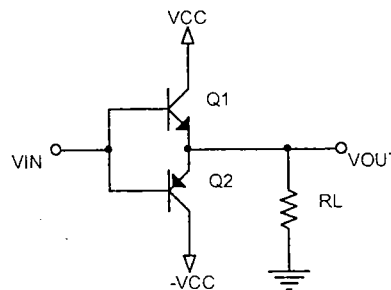
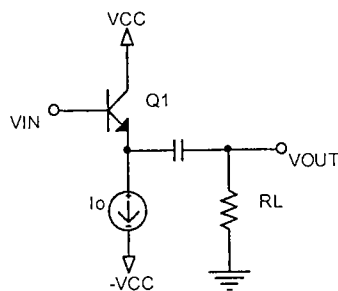
Datos:

$V_{CC}=5V$ , Transistores idénticos  
 $R_s=1k\Omega$ ,  $R_C=5k\Omega$ , el  $\beta=200$ ,  $V_{EB}=0.7V$ ,  $f_{T@5mA}=3GHz$ ,  
 capacitor inf es infinito  $C_\mu=5pF$ ,  $C_{je}=1pF$



**Pregunta (26 ptos):**

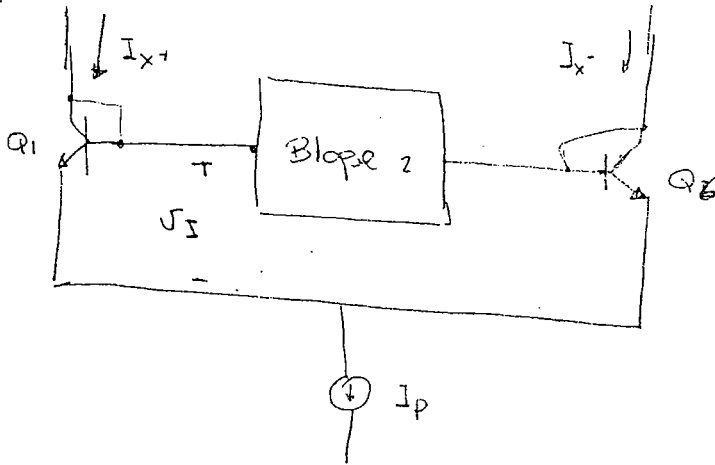
- Para cada una de las etapas de potencia de la figura, determinar la máxima eficiencia que sería posible alcanzar en cada caso para una señal de entrada sinusoidal, indicando bajo que condiciones se alcanzaría esta eficiencia máxima.
- Bajo esas condiciones, determinar en ambos casos cómo se reparte la potencia de la fuente que no va a la carga (es decir en qué elementos se disipa y qué porcentaje se disipa en cada uno de ellos).



Problema 1

Solución

Bloque 1:



$$I_{x+} + I_{x-} = i_{c1} + i_{c2} \cong I_P$$

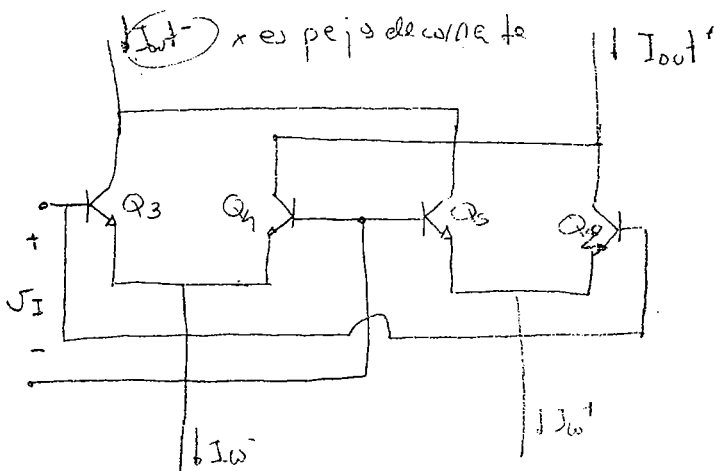
$$\left. \begin{aligned} i_{c1} &= I_S \cdot e^{\frac{V_{BE1}}{V_T}} \\ i_{c2} &= I_S \cdot e^{\frac{V_{BE2}}{V_T}} \end{aligned} \right\} \begin{aligned} V_{BE1} - V_{BE2} &= V_T \ln(i_{c1}/I_S) - V_T \ln(i_{c2}/I_S) \\ \parallel \\ V_I &= V_T \cdot \ln(i_{c1}/i_{c2}) \cong V_T \ln\left(\frac{I_{x+}}{I_{x-}}\right) \end{aligned}$$

Si  $\ln\left(\frac{1+x}{1-x}\right) = 2 \tanh^{-1} x$  y definimos  $x$  tal que:

$$\frac{1+x}{1-x} = \frac{I_{x+}}{I_{x-}} \rightarrow x = \frac{I_{x+} - I_{x-}}{I_{x+} + I_{x-}} = \frac{\Delta I_x}{I_P}$$

entonces:  $V_I = 2 V_T \cdot \tanh^{-1} (\Delta I_x / I_P)$  ①

Estudio el bloque 2:



QAA

$$i_{c3} = \frac{I_{\omega^-}}{1 + e^{-\sqrt{s}/v_T}}$$

$$i_{c5} = \frac{I_{\omega^+}}{1 + e^{\sqrt{s}/v_T}}$$

$$i_{c4} = \frac{I_{\omega^-}}{1 + e^{\sqrt{s}/v_T}}$$

$$i_{c2} = \frac{I_{\omega^+}}{1 + e^{-\sqrt{s}/v_T}}$$

, for  $\omega_s$ .

$$I_{out} = (i_{c4} + i_{c2}) - (i_{c3} + i_{c5})$$

$$= \frac{\Delta I_{\omega}}{I_{\omega^-} - I_{\omega^+}} \frac{\Delta I_{\omega}}{I_{\omega^-} - I_{\omega^+}}$$

$$= \Delta I_{\omega} \cdot \frac{\left( e^{\sqrt{s}/v_T} - e^{-\sqrt{s}/v_T} \right) \left( e^{\sqrt{s}/v_T} + e^{-\sqrt{s}/v_T} \right)}{\left( e^{\sqrt{s}/v_T} + e^{-\sqrt{s}/v_T} \right) \left( e^{\sqrt{s}/v_T} - e^{-\sqrt{s}/v_T} \right)} = \Delta I_{\omega} \cdot \tanh\left(\frac{\sqrt{s}}{2v_T}\right) \quad \textcircled{2}$$

e ① y ②

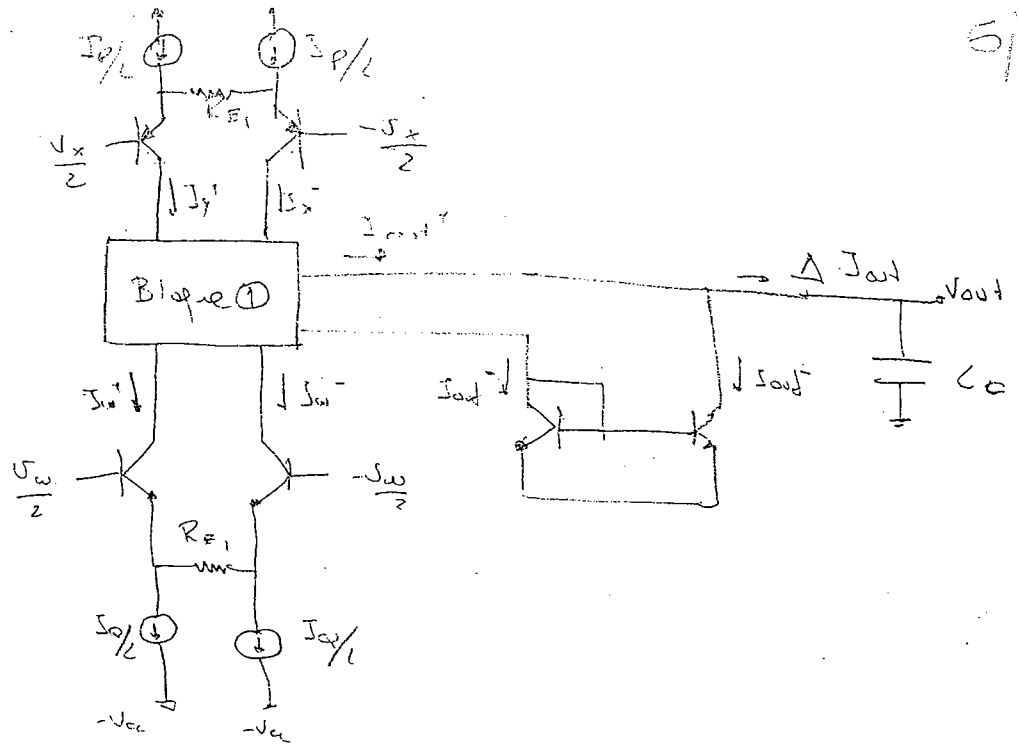
$$\Delta I_{out} = \Delta I_{\omega} \cdot \tanh\left(\frac{2\sqrt{s} \cdot \tanh^{-1}\left(\frac{\Delta I_x}{I_p}\right)}{2v_T}\right)$$

$$\Delta I_{out} = \Delta I_{\omega} \frac{\Delta I_x}{I_p}$$



QAA

5/10



Como  $\begin{cases} I_B \cdot R_{E1} \gg \Delta v_i \\ I_Q \cdot R_{E2} \gg \Delta v_i \end{cases}$

puedo trabajar en zona lineal. Lo que se halla por el blo que 1 sob tambien en este caso

$$\Rightarrow \Delta I_y = I_{x^+} - I_{x^-} = R_{E1} \cdot \frac{v_x^-}{2} - \left( -R_{E1} \cdot \frac{v_x^+}{2} \right) = R_{E1} \cdot v_x$$

$$\Delta I_w = I_{w^+} - I_{w^-} = R_{E2} \cdot v_w$$


$$\Rightarrow \boxed{\Delta I_{out} = \frac{R_{E1} R_{E2} v_x v_w}{I_P}}$$

$$\Rightarrow \boxed{v_{out} = \Delta I_{out} \cdot (r_{out} \parallel R_L)}$$

$$r_{out} = r_{oq10} \parallel r_{oq9} = \frac{I_Q \cdot 1}{5 V_A}$$

$$r_{oq10} = \frac{I_Q/2}{V_A} = \sqrt{r_{oq9}}$$

Rafael Juelbo

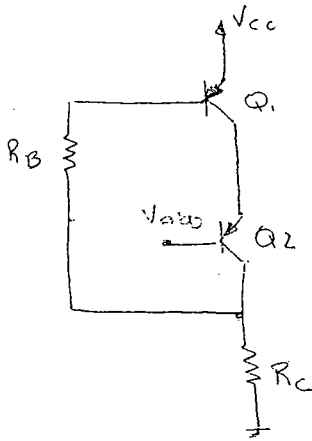


Problema 2

QAA

6/10

a)



$$V_{CC} = V_{BE} + R_B I_B + R_C (I_E + I_C) \stackrel{\substack{I_B = I_C/\beta \\ I_E = I_C(\beta+1)/\beta}}{=} V_{BE} + R_B \frac{I_C}{\beta} + R_C I_C$$

$$\Rightarrow V_{CC} - V_{BE} = I_C \left( \frac{R_B}{\beta} + R_C \right)$$

Para que la polarización no dependa de  $\beta$ :  $\frac{R_B}{\beta} \ll R_C$


b) Si  $R_B = R_C$   $\rightarrow$  se cumple la condición anterior  $\checkmark$

$$I_C = \frac{V_{CC} - V_{BE}}{R_C} \rightarrow I_C = \frac{5V - 0.7V}{5K} = 0.86 \text{ mA}$$


$$g_{m1} = g_{m2} = g_m = \frac{I_C}{V_T} = 3,3 \times 10^{-2} \text{ A/V}$$

$$r_{\pi} = \frac{\beta}{g_m} = 6.0 \text{ K}\Omega$$

Aplico Miller a la resistencia  $R_B$ :



$$A = \frac{V_{c2}}{V_{be1}}$$



QA Δ

$$= -V_{ce2} = r_{\pi} \cdot (-g_m v_{be1} - g_m v_{c1}) \Rightarrow \frac{v_{c1}}{v_{b1}} = \frac{-r_{\pi} g_m}{1 + g_m r_{\pi}} \approx -1 = A_v$$

x caso de

$$v_{c2} = -g_m v_{be2} \cdot R_c // R_B \left( \frac{A}{A-1} \right) = -g_m v_{b1} \cdot R_c // R_B$$

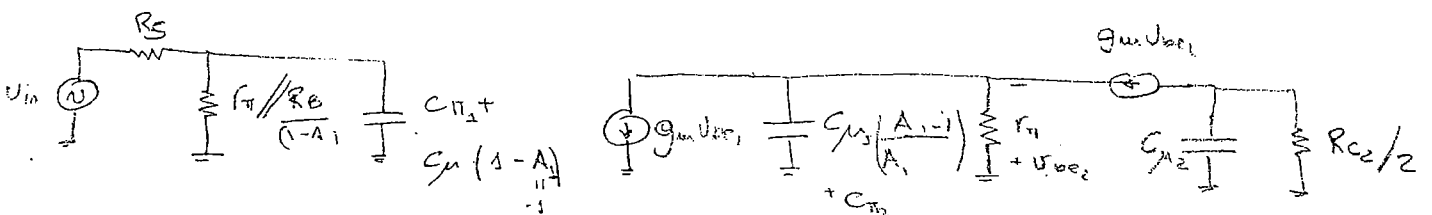
$$\Rightarrow A = \frac{v_{c2}}{v_{b1}} = -g_m R_c // R_B = -g_m \frac{R_c}{2} \Rightarrow \boxed{A = -g_m \frac{R_c}{2}}$$

$$A = -3.6 e^{-2} \cdot 5K = 80$$

$$v_{b1} = \frac{r_{\pi} // R_B / (1-A)}{R_s + r_{\pi} // R_B / (1-A)} \cdot v_{in} \approx \frac{R_B / (1-A)}{R_s + \frac{R_B}{(1-A)}} v_{in} = \frac{55}{1K + 85} v_{in} = 0.05 v_{in}$$

$$\Rightarrow G = A \cdot \frac{v_{b1}}{v_{in}} = -g_m \frac{R_c}{2} \cdot \frac{R_B / (1-A)}{R_s + R_B / (1-A)} = 4.5$$

c)



$$f_3 = \left[ (C_{\pi 1} + 2C_{\mu}) \left( \frac{R_B}{1-A} // R_s // r_{\pi} \right) \right]^{-1} \frac{1}{2\pi} = \left[ (1.75p + 10p) \cdot 55 \right]^{-1} \frac{1}{2\pi} = 240 \text{ MHz}$$

$r_{\pi} / g_m = 28 \Omega$

$$f_2 = \left[ (2C_{\mu} + C_{\pi 2}) \left( r_{\pi} // \frac{1}{g_m} \right) \right]^{-1} \frac{1}{2\pi} = \left[ 5.9p \cdot 28 \right]^{-1} \frac{1}{2\pi} = 445 \text{ MHz}$$

$$f_3 = \left[ \frac{R_c}{2} \cdot C_{\mu 2} \right]^{-1} \frac{1}{2\pi} = 30 \text{ Mrad/s} = 12 \text{ MHz}$$

$2.5K \quad 5p$

↑  
frecuencia de corte superior.



(cont.)

Q4A E/10

$$I_{S_{uA}} = 5 \mu A$$

$$g_{m @ S_{uA}} = \frac{I_{S_{uA}}}{V_T} = 0.19$$

$$\omega_T = 2\pi \cdot f_T = \frac{g_{m @ S_{uA}}}{C_{\pi} + C_{\mu}} \Rightarrow C_{\pi @ S_{uA}} = \frac{g_{m @ S_{uA}} / \omega_T - C_{\mu}}{1} = \frac{5 \text{ pF}}{10 \text{ pF}}$$

$$C_{\pi @ S_{uA}} = C_{je} + \alpha \frac{I_{S_{uA}}}{I_{S_{uA}}} \Rightarrow \alpha = 0.8 \text{ pF}/\mu A$$

$$C_{\pi @ 0.86 \mu A} = C_{je} + \alpha \cdot 0.86 \mu A \approx 1.20 \text{ pF}$$

*Prof. Carlos Frías*





(b)

CLASS A

$$P_S = P_L + P_D + P_{I_0}$$

$\swarrow$  dissipatada en  $Q_1$   
 $\swarrow$  dissipatada en  $I_0$

$$P_D = \frac{1}{2\pi} \int_0^{2\pi} i_{C_1} V_{CE} d\theta = \frac{1}{2\pi} \int_0^{2\pi} i_{C_1} (V_{CC} - V_0) d\theta$$

$\leftarrow (V_0 = V_{CC})$

$$= \frac{V_{CC}}{2\pi} \int_0^{2\pi} i_{C_1} d\theta - \frac{1}{2\pi} \int_0^{2\pi} i_{C_1} V_{CC} \sin\theta d\theta$$

$$= V_{CC} I_0 - \frac{V_{CC} I}{2\pi} \int_0^{2\pi} \sin\theta d\theta - \frac{V_{CC}^2}{2\pi R_L} \int_0^{2\pi} \sin^2\theta d\theta$$

$$\Rightarrow P_D = V_{CC} I_0 - \frac{V_{CC}^2}{2R_L} = \frac{V_{CC}^2}{2R_L} = \frac{V_{CC} I_0}{2}$$

$(I_0 = \frac{V_{CC}}{R_L})$

$$\Rightarrow \frac{P_D}{P_S} = 25\%$$

$$\Rightarrow \frac{P_{I_0}}{P_S} = 50\%$$

CLASS B :  $P_S = P_L + P_{Q_1} + P_{Q_2}$   
 x simetria  $P_{Q_1} = P_{Q_2}$

$$\Rightarrow P_{Q_1} = \frac{P_S - P_L}{2} = \frac{12,2\%}{2}$$

$$\Rightarrow \frac{P_{Q_1}}{P_S} = \frac{P_{Q_2}}{P_S} = 10,75\%$$

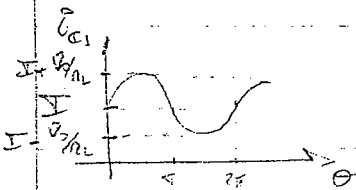


EXAMEN ELECTRON 2 FEB/2005

Preguntas

(e)  $\eta = \frac{P_L}{P_S}$

CLASE A :  $P_L = \frac{1}{2\pi} \int_0^{2\pi} \frac{\hat{V}_o^2}{R_L} \sin^2 \theta d\theta = \frac{\hat{V}_o^2}{2R_L}$



$P_S^+ = \frac{V_{cc}}{2\pi} \int_0^{2\pi} i_{c1} d\theta = \frac{V_{cc}}{2\pi} \int_0^{2\pi} (I_0 + \frac{\hat{V}_o}{R_L} \sin \theta) d\theta = V_{cc} I_0$


$P_S^- = V_{cc} I_0 \Rightarrow P_S = 2V_{cc} I_0$

$\Rightarrow \eta_A = \frac{\hat{V}_o^2}{4R_L V_{cc} I_0} \Rightarrow \eta_{Amax} = 25\%$

$\hat{V}_o = V_{cc} = R_L I_0$

CLASE B :

$P_L = \frac{\hat{V}_o^2}{2R_L}$



$\bar{i}_c = \frac{1}{2\pi} \int_0^{\pi} \frac{\hat{V}_o}{R_L} \sin \theta d\theta = \frac{1}{\pi} \frac{\hat{V}_o}{R_L}$

$\Rightarrow P_S^+ = V_{cc} \bar{i}_c = \frac{V_{cc} \hat{V}_o}{\pi R_L} \Rightarrow P_S = \frac{2V_{cc} \hat{V}_o}{\pi R_L}$

$\Rightarrow \eta_B = \frac{\hat{V}_o^2 \pi R_L}{4V_{cc} \hat{V}_o \pi R_L} \Rightarrow \eta_B = \frac{\hat{V}_o}{4V_{cc}}$

$\Rightarrow \eta_{Bmax} = \frac{\pi}{4} \approx 78.5\% \quad \left| \hat{V}_o = V_{cc} \right|$

